



## PREFEITURA MUNICIPAL DE CAMPO LARGO

PROCESSO SELETIVO  
PARA CONTRATAÇÃO DE ESTAGIÁRIOS  
EDITAL DE ABERTURA DE INSCRIÇÕES Nº 001/2017

### NÍVEL SUPERIOR

Preencha seus dados com letra de forma utilizando caneta esferográfica azul ou preta.

Nome Completo:	
R.G.:	C.P.F.:
Curso:	Tel: (    )
Assinatura:	

#### INSTRUÇÕES

1. A duração das provas objetiva e discursiva será de **02 horas (09h00min e 11h00min)**.
2. A prova objetiva será composta por VINTE questões de múltipla escolha.
3. Ao receber a prova, deverá o candidato preencher nos campos adequados, seu nome e número dos documentos, evitando rasuras.
4. Não serão permitidas consultas à legislação ou a qualquer outro material de apoio.
5. Tome cuidado ao preencher a folha de respostas, pois esta é **insubstituível**.
6. Preencha o quadrado que corresponde à resposta correta, conforme modelo: **X**.

BOA SORTE!

FOLHA DE RESPOSTAS					
	A	B	C	D	E
01					
02					
03					
04					
05					
06					
07					
08					
09					
10					
11					
12					
13					
14					
15					
16					
17					
18					
19					
20					



**PREFEITURA MUNICIPAL DE CAMPO LARGO**



## PREFEITURA MUNICIPAL DE CAMPO LARGO

### PORTUGUÊS

#### 1. Texto I

“Algum tempo hesitei se devia abrir estas memórias pelo princípio ou pelo fim, isto é, se poria em primeiro lugar o meu nascimento ou a minha morte. Suposto o uso vulgar seja começar pelo nascimento, duas considerações me levaram a adotar diferente método: a primeira é que eu não sou propriamente um autor defunto, mas um defunto autor, para quem a campa foi outro berço; a segunda é que o escrito ficaria assim mais galante e mais novo. Moisés, que também contou a sua morte, não a pôs no intróito, mas no cabo: diferença radical entre este livro e o Pentateuco”. (Machado de Assis, in Memórias Póstumas de Brás Cubas).

Após a leitura do trecho acima, podemos afirmar que de acordo com a ideia do autor personagem, este fragmento trata-se de:

- de um texto jornalístico.
- de um texto religioso.
- de um texto científico.
- de um texto autobiográfico.
- de um texto teatral.

2. Sobre as classes de palavras, sabemos que o artigo transforma qualquer palavra em um substantivo, mudando assim o seu valor dentro de um determinado contexto.

Ainda sobre o Texto II, no trecho: “No primeiro caso era o ir e voltar; no segundo, era o ir e ficar”, podemos afirmar, que de acordo com as classes de palavras, o termo destacado assume a função de:

- Advérbio.
- Verbo.
- Substantivo.
- Adjetivo.
- Pronome.

3. Em relação à concordância nominal, assinale a única opção incorreta:

- Estava agitado o filho e o pai.

- Pareciam insatisfeitos o jogador e o técnico com o resultado da partida.
- É necessária a análise diária dos documentos financeiros.
- É proibido a entrada de pessoas estranhas neste local.
- Nenhuma das alternativas.

4. Em relação ao encontro vocálico, assinale a única alternativa em que possuímos a seguinte sequência: Hiato, Ditongo e Tritongo.

- Poesia – Viela – Série.
- Democracia – Corrói – Enxaguei.
- Poesia – Cortesia – Iguais.
- Iguais – Enxaguei – Poesia.
- Viela – Série – Democracia.

5. Sabemos que em 01/01/2016 algumas mudanças ocorreram na forma escrita da Língua Portuguesa. Mudanças de acentuação, inclusão ou exclusão do hífen em alguns casos, assim como a inclusão oficial de novas letras do alfabeto são algumas delas, por exemplo. Nos atualizarmos em relação a estas mudanças, é extremamente importante, visto que também nos comunicamos através da Língua Escrita. Partindo deste conhecimento, assinale abaixo a única palavra escrita incorretamente após a vigência do Novo Acordo Ortográfico da Língua Portuguesa:

- Ideia.
- Heróico.
- Herói.
- Micro-ônibus.
- Leem.

### MATEMÁTICA

6. Um capital, aplicado à taxa de juros simples de 5% ao mês, vai triplicar o seu valor em:

- 3 anos e 6 meses
- 3 anos e 2 meses
- 3 anos e 8 meses
- 3 anos e 4 meses
- 3 anos



## PREFEITURA MUNICIPAL DE CAMPO LARGO

7. A figura mostra a localização dos apartamentos de um edifício de três pavimentos que tem apenas alguns deles ocupados:

- a) 1
- b) 2
- c) 3
- d) 4
- e) 5

Sabe-se que:

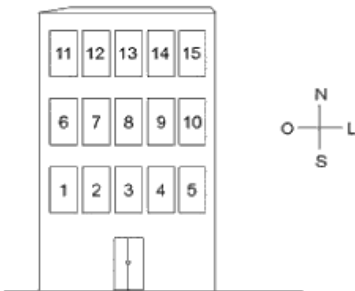
Maria não tem vizinhos no seu andar, e seu apartamento localiza-se o mais a leste possível;

Tais mora no mesmo andar de Renato, e dois apartamentos a separam do dele;

Renato mora em um apartamento no segundo andar exatamente abaixo do de Maria;

Paulo e Guilherme moram no andar mais baixo, não são vizinhos e não moram abaixo de um apartamento ocupado.

No segundo andar estão ocupados apenas dois apartamentos.



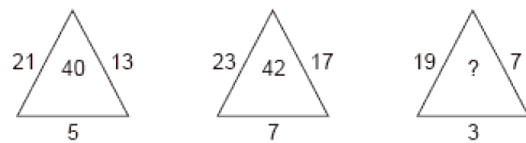
Se Guilherme mora a sudoeste de Tais, o apartamento de Paulo pode ser:

- a) 1 ou 3
- b) 1 ou 4
- c) 3 ou 4
- d) 3 ou 5
- e) 4 ou 5

8. Movendo-se palito(s) de fósforo na figura I, é possível transformá-la na figura II o menor número de palitos de fósforo que deve ser movido para fazer tal transformação é:



9. Observe que, na sucessão de figuras abaixo, os números que foram colocados nos dois primeiros triângulos obedecem a um mesmo critério.



Para que o mesmo critério seja mantido no triângulo da direita, o número que deverá substituir o ponto de interrogação é

- a) 32
- b) 36
- c) 38
- d) 42
- e) 46

10. Após alguns meses de uma aplicação financeira, Pedro verificou um rendimento de 4.125,00. Se a aplicação era regulamentada pelo regime de juros simples de 0,5% ao mês e a aplicação inicial foi de 75.000,00 o número de meses da aplicação foi igual a:

- a) 9
- b) 10
- c) 11
- d) 12
- e) 13

### CONHECIMENTOS GERAIS

11. Se desenharmos sobre o mapa do Brasil uma reta partindo de Campo Grande no Mato Grosso do Sul, para Recife em Pernambuco, teremos a orientação dos pontos colaterais na seguinte ordenação:

- a) leste - oeste.
- b) sudoeste - norte.
- c) sudeste - noroeste.
- d) sudoeste - nordeste.
- e) sul - norte.

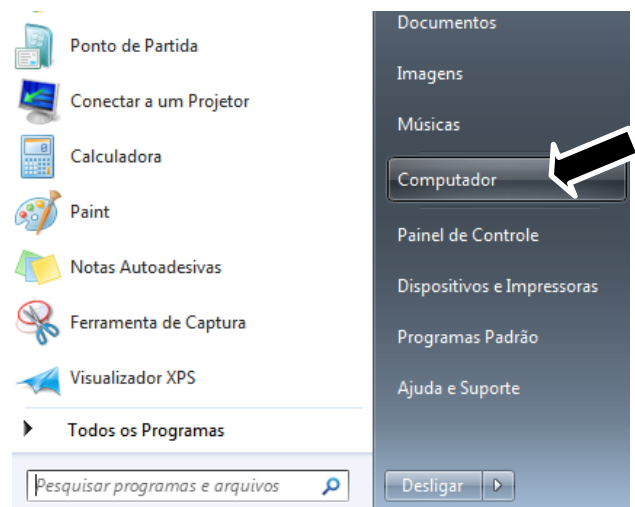


## PREFEITURA MUNICIPAL DE CAMPO LARGO

12. Dom Pedro II fazia parte da família Bragança por parte de seu pai João VI e também tinha o sangue aristocrático da família:
- Casa de Médiçi.
  - Casa de Habsburgo.
  - Casa de Hanover.
  - Casa de Hohestaufen.
  - Casa de Richtohfen.
13. O colonizador português considerava que os habitantes da costa da América tinham uma língua em que faltavam 3 letras: F, L e R. Diziam ser isso surpreendente e sob forma de troça comentavam ser esse também o motivo destes povos não terem Fé, Lei e um Rei, coisa que os levavam a viver desordenadamente sem nem se perceberem disso. Esse pensamento sobre a ausência das letras F, L e R nas línguas indígenas demonstra:
- Como as sociedades tribais brasileiras eram simples.
  - Como o português impunha a sua dominação aos índios durante o período colonial.
  - Como a sociedade europeia era superior à sociedade indígena.
  - Incompreensão dos valores socioculturais indígenas pelos portugueses.
  - A experiência da dificuldade sentida pelo português para aprender a língua dos indígenas.
14. Paulo Evaristo Arns faleceu no ano de 2016, acontecimento que foi amplamente noticiado dentro do país. Escolha a alternativa que apresenta de modo verdadeiro este personagem da história brasileira:
- Arcebispo emérito da Arquidiocese de São Paulo que teve participação significativa no combate a repressão durante a ditadura militar.
  - Descendente de belgas, foi um controverso dirigente dentro da história dos esportes mundiais.
  - Era ator, teatrólogo e empresário que ganhou destaque e notoriedade ao participar da novela Cordel Encantado.
  - Poeta revolucionário que abordou em sua obra temas como política, cultura e sociedade.
  - Astro do rock nacional que ganhou vulto por suas canções lançadas na década de oitenta.
15. Qual das alternativas corresponde ao verdadeiro responsável por conduzir o julgamento de mérito do impeachment de Dilma Rousseff?
- O Vice-Presidente Michel Temer.
  - O Senador Raimundo Lira.
  - O Juiz Sérgio Moro.
  - O Presidente do Supremo Tribunal Federal, Ricardo Lewandowski.
  - O Presidente do Senado Federal Renan Calheiros.

### INFORMÁTICA

16. A figura mostra que no sistema operacional Windows 7 foi clicado na aba “computador” conforme indica a seta, significa que você pretende:



- Localizar a parte lógica do computador;
- Localizar a unidade central de processamento;



## PREFEITURA MUNICIPAL DE CAMPO LARGO

- c) Consultar as unidades de disco e outros itens de hardware conectados ao computador;
- d) Consultar o painel de controle do computador;
- e) Localizar a parte física do computador, tudo que se refere a componentes.
17. Quando você utiliza o teclado de um computador para digitar um texto e você clica na tecla delete a mesma terá a função de :
- a) Apagar o caractere diretamente à esquerda de seu cursor;
- b) Apagar o texto e levar diretamente para a lixeira;
- c) Apagar todo o texto;
- d) Apagar o caractere diretamente à direita de seu cursor;
- e) Apagar apenas a frase a esquerda de seu cursor.
18. No Microsoft Office Excel 2010 para calcular a média dos valores contidos nos intervalos das células A 5 a A 10 dentro de uma planilha é necessário utilizar a função Média com o seguinte formato:
- a) =Média(A5,A10)
- b) =Média(A5^A10)
- c) =Média(A5&A10)
- d) =Média(A5<>A10)
- e) =Média(A5:A10)
19. Uma apresentação finalizada no Microsoft Office Power Point 2013 com o arquivo salvo como no tipo: apresentação de slide de Power point não tem como alterar o conteúdo do arquivo, mas se precisar fazer as devidas alterações um dos procedimentos a seguir é:
- a) Clicar no menu Arquivo – no ícone abrir – localizar a apresentação desejada;
- b) Clicar no menu Página inicial – no ícone abrir – localizar a apresentação desejada;
- c) Clicar no menu Revisão – no ícone abrir – localizar a apresentação desejada;
- d) Clicar no menu Apresentação de slides – no ícone abrir – localizar a apresentação desejada;
- e) Clicar no menu design – no ícone abrir – localizar a apresentação desejada.
20. São exemplos de browsers que permitem a navegação na internet:
- a) Whatsapp e Mozilla Firefox;
- b) Google Chrome e MSN;
- c) MSN e Safira;
- d) Mozilla Firefox e Internet Explorer;
- e) Internet Explorer e Yahoo.